




Opgaver til side 16-17 i skoleavisen

## Geologisk tid


1)

Hver mm på nedenstående streg svarer til 100.000 år. 10.000 mm = 1.000 cm = 10 m svarer til 1 mia. år. Det har vi ikke plads til her. Men da vi har arbejdet med de sidste 70 mio. år, har vi tegnet en streg, der er 700 gange 1 mm lang = 70 cm.

70 mio. år siden




1. menneske

Mål dig frem til, og marker (f.eks. sådan: ) , hvornår:

- der var kridttid
- det store meteornedslag ud for Mexico fandt sted
- tertiærtiden begyndte og sluttede
- kvartærtiden begyndte
- Atlanterhavet åbnede sig
- mennesket opstod
- og hvad du ellers kan finde på af tidsangivelser mht. bjergdannelser og lign.





Endelig kan du med blå farve den del af »tiden«, hvor »Danmark« var dækket af vand.

2) Hvor stor en del af en mm vil dit eget liv fylde på denne streg, hvis vi regner med, at du bliver 100 år? \_\_\_\_\_

